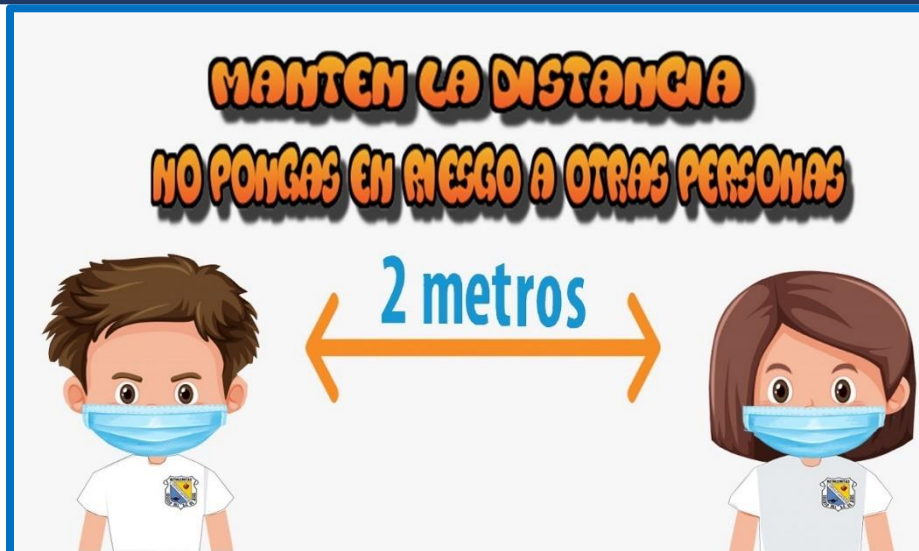
	DISEÑO DEL SERVICIO	Código: M2- FOR05
		Versión: 02 de septiembre de 2018
	GUIA DE NIVELACIÓN II PERÍODO	Año escolar: 2020 - 2021

Docente: Ivonne Azeneth Cabrera Benavides	Asignatura: Matemáticas	Grado: 3R ^o	Periodo: III	Mes: Abril
--	-------------------------	------------------------	--------------	------------

**BETHLEMITAS YO ME CUIDO, TÚ TE CUIDAS,
TODOS NOS PROTEGEMOS**



RESUELVE LOS PROBLEMAS REGISTRANDO LOS DATOS, OPERACIÓN Y RESPUESTA

- En la estantería del salón de mi casa hay 120 libros en total colocados en 6 estantes. Sabiendo que cada estantería tiene el mismo número de libros, calcula cuántos libros hay en cada estantería.

Análisis o datos:

Operación:

Respuesta:

- De excursión por el bosque, recogimos 80 moras, que gastamos por completo haciendo pasteles. Si pusimos 4 moras en cada pastel, ¿cuántos pasteles de moras hicimos?

Análisis o datos:

Operación:

Respuesta:

- Pablo es conductor de autobús. Me ha dicho que en cada viaje hace 2.840 kilómetros y que viaja a una velocidad media de 62 kilómetros por hora. ¿Cuánto tiempo tarda en hacer su recorrido?

Análisis o datos:

Operación:

Respuesta:

4. Completa la tabla. Observa el ejemplo.

DIVISIÓN	DIVIDENDO	DIVISOR	COCIENTE	RESIDUO
$46 \div 7$	46	7	6	4
$81 \div 9$				
$35 \div 5$				
$54 \div 2$				
$42 \div 3$				

5. Relaciona cada división con su cociente y con su residuo.

División

Cociente

Residuo

$76 \div 8$

8

4

$43 \div 6$

9


1

$26 \div 3$


7

2

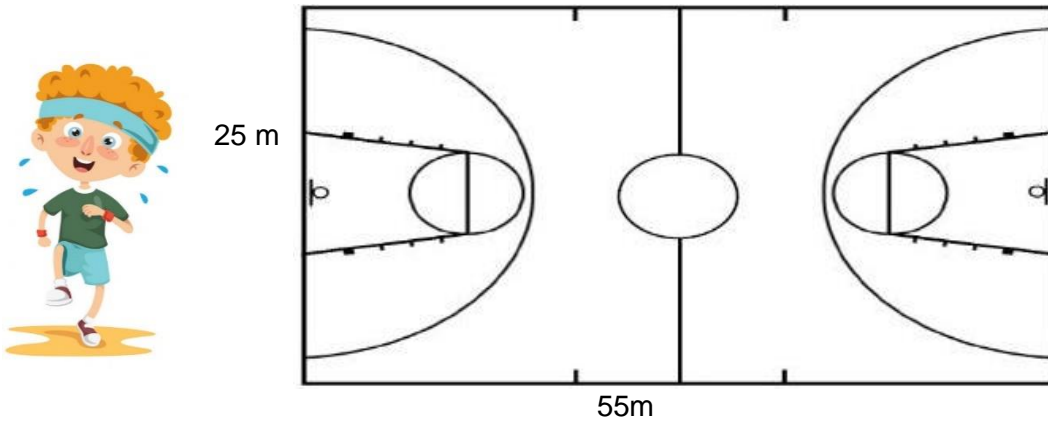
6. **DIBUJA LA SITUACIÓN PROBLEMICA:** María tiene dos docenas de flores para hacer tres ramos. Si en cada uno pondrá la misma cantidad de flores. ¿Cuántas flores pondrá en cada ramo?



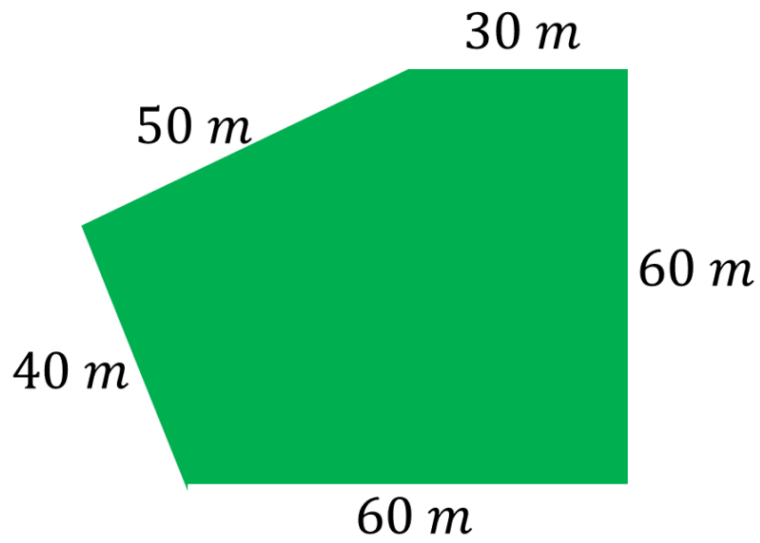
7. Observa a tu alrededor y dibuja 3 círculos y 3 circunferencias, señala en ellos sus elementos.



8. Juanito trota todas las mañanas, él dio cuatro vueltas alrededor de la cancha de baloncesto. ¿Cuántos metros recorrió en total?



9. Don Carlos quiere cercar su terreno con dos vueltas de alambre. ¿Cuántos metros de alambre necesita en total para cercar su terreno?



10. Dibuja tu habitación y halla el perímetro de esta.

